

Logiczne Wędrowki – etap IV

Klasa

Skład drużyny:.....

Ilość zdobytych punktów:

1. Co wstawisz w miejsce znaku zapytania?



- A) 5
- B) 9
- C) 6
- D) 7

2. Tomek ma 7 lat, matka chłopca jest 4 razy starsza od syna, a jej ojciec z kolei jest dwa razy starszy od niej. Ile lat miał dziadek Tomka, gdy chłopiec przyszedł na świat?

- A) 48
- B) 49
- C) 50
- D) 51

3. Który z anagramów nie jest anagramem imienia?

- A) MUSZYTETO
- B) TIOPHIL
- C) ASZATYNA
- D) REWIKOCA

4. Podkreśl każdą parę liter występujących w alfabecie bezpośrednio po sobie. Ile jest tych par?

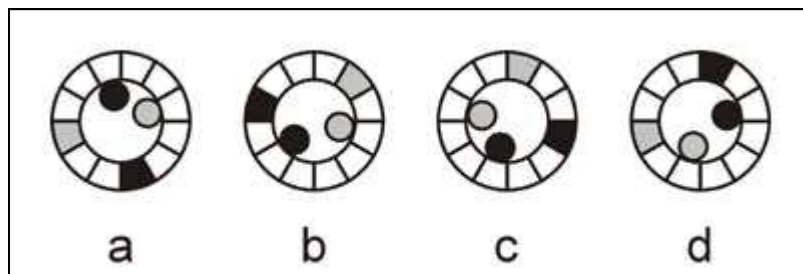
U K L M O Q T U I E B I O S P K C N V H R U I P K M A C E F G R I O P Q S T

- A) 8
- B) 7
- C) 9
- D) 6

5. Oto anagramy nazw zwierząt; dla utrudnienia zadania samogłoski zostały pominięte. Który nie pasuje do pozostałych?

- A) GSPTR
- B) ŻŚDL
- C) ZDSR
- D) LWBR

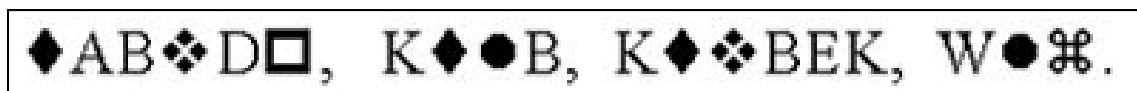
6. Który rysunek nie pasuje do pozostałych?



7. Polskie czcionki zostały zastąpione w poniższych wyrazach dziwnymi znakami:

np. za Ę wstawiono ♠

Uzyskano w ten sposób następujące "słowa":



Który z poniższych słów zostało zapisane zgodnie z tymi zasadami?

- A) □●DZA
- B) ⌘●DZA
- C) □♦DZA
- D) ♦□DZA

8. Rzucamy trzy razy monetą. Szansa, że za trzecim razem wypadnie reszka, wynosi

- A) nie wiemy, brak danych o wynikach poprzednich rzutów
- B) 33%
- C) 50%
- D) 67%

9. Który rysunek wstawisz w miejsce znaku zapytania ?



10. Jak wrzucić wielki głaz do jeziora, nie płosząc przy tym ryb?

Odp.....

11. Znajdź wyraz, który nie pasuje do pozostałych

- A) SZNUR
- B) HORMON
- C) KOMPUTER
- D) DOSTATEK

12. Nalał Józek pełen kubek kawy, wypił szóstą część, uzupełnił do pełna mlekiem, wypił trzecią część, znowu uzupełnił, wypił połowę, uzupełnił i na koniec wypił całą zawartość szklanki. Czego wypił więcej?

- A) kawy
- B) nie sposób stwierdzić
- C) tyle samo kawy co mleka
- D) mleka





13. Wstaw w nawiasy te część wyrazu, którą pierwszy się skończy, a drugi zacznie.

PO(...)CZOŚĆ

- A) TWÓR
- B) GÓR
- C) MÓR
- D) RÓW

Powodzenia!

PRAWIDŁOWE ODPOWIEDZI

1. **D** Liczbę osi symetrii figury należy powiększyć o 2.
2. **B**
3. **D** Są to anagramy słów **TYMOTEUSZ, HIPOLIT, ANASTAZY, KIEROWCA**.
4. **A**
5. **D** Zwierzęta te to: **PSTRĄG, ŚLEDŹ, DORSZ, WRÓBEL**. Wszystkie są rybami z wyjątkiem wróbla.
6. **A** Jedynie w tym przypadku dwa czarne oraz dwa szare elementy położone są w linii dzielącej cały obrazek na pół (leżą "naprzeciw" siebie).
7. **B** Za  podstaw **Ł**, za  **Ź**, za  **A**, za  **Ż**.
8. **C** 50%, jak przy każdym innym rzucie.
9. **A** Figura, która była pod spodem, na następnym rysunku ma być na wierzchu.
10. Należy wrzucić go do jeziora, w którym nie ma ryb.
11. **A** **SZTUR** jest wyrazem jednosylabowym, pozostałe mają przynajmniej po dwie sylaby.
12. **C** Dolał $1/6 + 1/3 + 1/2 = 1$ szklankę mleka.
13. **A** Przez wstawienie wyrazu **TWÓR** powstaną następujące wyrazy: **POTWÓR** i **TWÓRCZOŚĆ**